

# X EN BUSCA DEL TESORO Encartado

## FASE DE LOCALIZACION DE LAS

### MINAS - 1ª semana




*Burdinmendi: monte del hierro. Como bien veis todo girará en torno a estos montes repletos de hierro que tanta riqueza nos han traído hasta hoy en día.*

*Lo primero para obtener el tan preciado metal es localizar los lugares más propicios para extraer el mineral que luego procesaremos. El mineral se encontraba muy cerca de la superficie pero había que trabajarlo...*

*Lo primero para obtener el tan preciado metal es localizar los lugares más propicios para extraer el mineral que luego procesaremos. El mineral se encontraba muy cerca de la superficie pero había que trabajarlo...*



### Recorrido semiguñado

-  1. Dirígete a las minas del Oeste. En esta zona tan bonita de Euskal Herria de importante pasado minero surgieron ciertas infraestructuras que permitían aumentar la calidad del mineral  
¿Cuáles son?
  
-  2. Dentro de este recorrido, en las minas de Lanestosa hay una cuyo nombre rima con Clotilde. De esta mina se extraía mineral de hierro que posteriormente era exportado a...  
¿A dónde?
  
-  3. Si investigas un poco más y te sumerges en la información encontrarás otras minas en el pequeño pueblo de Lanestosa. En una de ellas se aplicaron procesos de extracción más modernos  
¿En cuál?



**burdinmendi**  
Enkarterri-Ezkerraldea  
naturgune didaktikoa

# X EN BUSCA DEL TESORO Encartado

☠ 4. En el municipio de Galdames encontrarás una cueva con una ermita, donde los rayos del sol aún hoy permiten vislumbrar algún resto de hierro.  
¿De qué lugar hablamos?

☠ 5. Hacia el Este de Enkarterri existe también un recorrido minero de gran importancia por encontrarse en una de sus minas el punto más bajo de Euskal Herria respecto del nivel del mar.  
¿De qué mina hablamos?

☠ 6. ¡Menuda vuelta que nos estamos dando! Aunque nos hemos paseado por casi todas las zonas mineras de Enkarterri tu viaje aún no ha acabado. Retrocede hasta el pueblo más pequeño de Enkarterri para tu próxima prueba. Ya sabes que las mujeres eran las encargadas de hacer el trabajo más minucioso en las minas... por algo se les pondría nombre de mujer a la mayoría de las minas pero...  
¿Sabes cuál de estas "mujeres" era la más transparente de Lanestosa?



Prueba práctica (cuadro de características de las minas).

Se trata de rellenar los cuadros en blanco con las sentencias numeradas y en cursiva.

Mina Concha II	C	Mina Clara	H	Mina Manuel
----------------	---	------------	---	-------------

ES UNA DE LAS MAYORES DE EUROPA.	D	ESTÁ EN LANESTOSA.	ESTÁ EN LANESTOSA.	DE ESTA MINA SE EXTRAÍA GALENA.
A	SE LE CONOCE TAMBIÉN CON EL NOMBRE DE ESKATXABEL.	F	SU EXPLOTACIÓN COMENZÓ EN LOS AÑOS 20.	J
HA SIDO LA ÚLTIMA EN CERRARSE EN 1993.	E	ES LA TÍPICA EXPLOTACIÓN CON CARÁCTER LOCAL Y FAMILIAR.	I	K
B	TIENE EN SU ENTRADA LA ERMITA DE LA MAGDALENA.	G	EL MINERAL SE TRANSPORTABA HASTA EL CARGADERO DEL BARRIO DEL POLVORÍN.	SE ENCUENTRA EN LANESTOSA.



**burdinmendi**

Enkarterri-Ezkerraldea  
naturgune didaktikoa

**X EN BUSCA  
DEL TESORO  
Encartado**

1. *Es una cueva natural y también es una mina.*
2. *Está en Galdames.*
3. *Para continuar con la explotación de la mina se construyeron galerías auxiliares subterráneas.*
4. *Urallaga.*
5. *Se aplicaban ya procesos más modernos.*
6. *El transporte de mineral desde esta mina era muy costoso.*
7. *Matilde.*
8. *Es el punto de Euskal Herria más bajo sobre el nivel del mar: - 20 m.*
9. *El principal mineral era la galena que se extraía a cielo abierto con un taladro gigante.*
10. *Se encuentra en Gallarta.*
11. *Nicolás Vicario escribió sobre ella.*



1º, 2º, 3º y 4º de ESO

[www.burdinmendi.org](http://www.burdinmendi.org)